
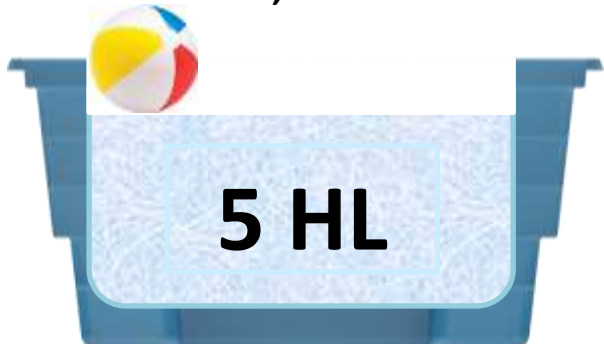


JMÉNO:

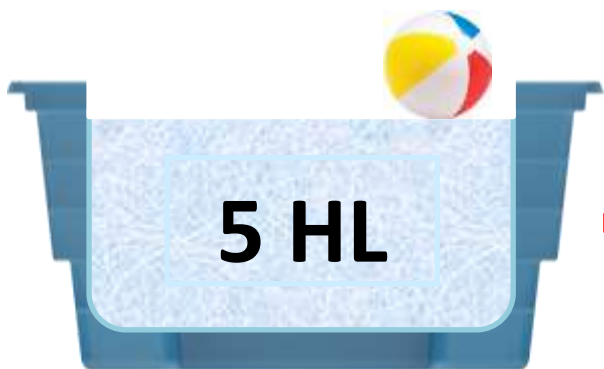
DATUM:

JEDNODUCHÉ SLOVNÍ ÚLOHY Z PRAKTICKÉHO ŽIVOTA – JEDNOTKY OBJEMU

V 1. BAZÉNU JE 5 HL VODY, VE 2. BAZÉNU JSOU 3 HL VODY
ZAKROUŽKUJ BAZÉN, KDE JE VÍCE VODY.



V 1. BAZÉNU JE 5 HL VODY, VE 2. BAZÉNU JSOU 3 HL VODY
KOLIK HL VODY POTŘEBUJEŠ DO OBOU BAZÉNŮ?



+



5 HL + 3 HL =

SPOČÍTEJ A PŘIŘAĎ SPRÁVNOU ČÍSLICI



1
2
3
4
5
6

